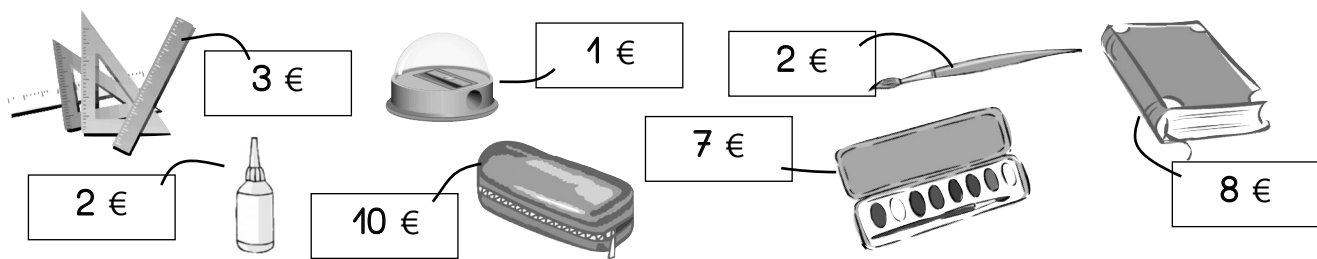


**A**

**Rechengeschichten zum Einkaufen**

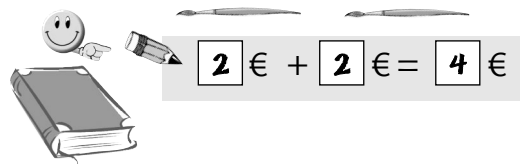


1. Wie viel müssen die Kinder bezahlen?

Stefan kauft:



€ +  € +  € =  €



Male und rechne eigene Aufgaben!

Corinna kauft:




€ +  € +  € =  €

Michael kauft:

€ +  € +  € =  €

2.



Heike hat \_\_\_\_\_ €.

Heike bezahlt \_\_\_\_\_ €.

\_\_\_\_\_ € - \_\_\_\_\_ € = \_\_\_\_\_ €

3.



Udo hat \_\_\_\_\_ €.

Udo bezahlt \_\_\_\_\_ €.


\_\_\_\_\_ € - \_\_\_\_\_ € = \_\_\_\_\_ €

4.



Male und rechne eigene Aufgaben!

Stefan




Stefan hat \_\_\_\_\_ €.

Stefan bezahlt \_\_\_\_\_ €.

\_\_\_\_\_ € - \_\_\_\_\_ € = \_\_\_\_\_ €

Anna



Anna hat \_\_\_\_\_ €.

Anna bezahlt \_\_\_\_\_ €.

\_\_\_\_\_ € - \_\_\_\_\_ € = \_\_\_\_\_ €